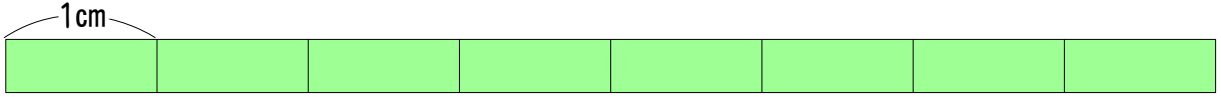


月 日

名前 _____

1

テープを 8 つに分けた 1 つ分の長さは、1 cm です。

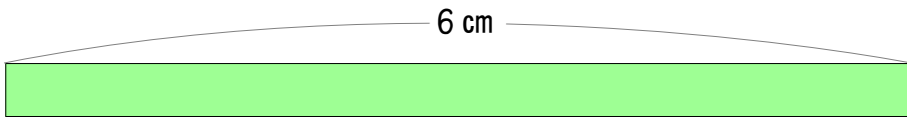


(1) 1 cm は、もとの長さの何分の一でしょう。 ()

(2) もとの長さは、何cm でしょう。 ()

2

6 cm のテープを 3 つに分けます。



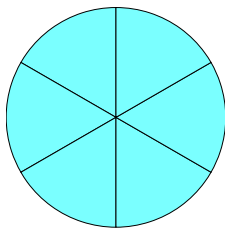
(1) 分けた 1 つ分は、もとの何分の一でしょう。 ()

(2) 分けた 1 つ分の長さは、何cm でしょう。 ()

3

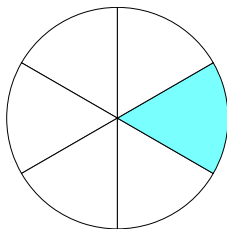
もとの大きさの何分の何でしょう。

ちょうせん してみよう!



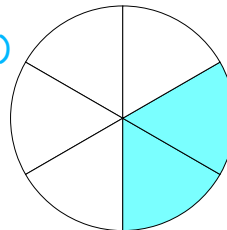
もとの大きさ

(1)



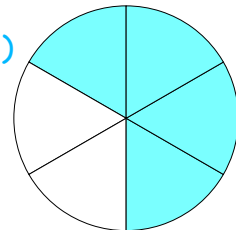
()

(2)



()

(3)



()