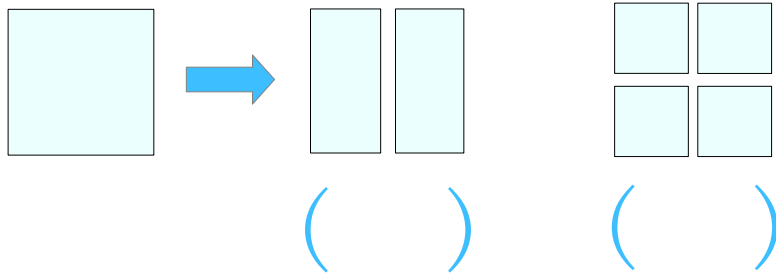


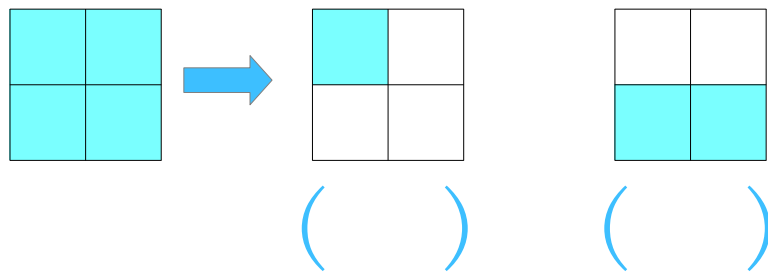
月 日

名前 \_\_\_\_\_

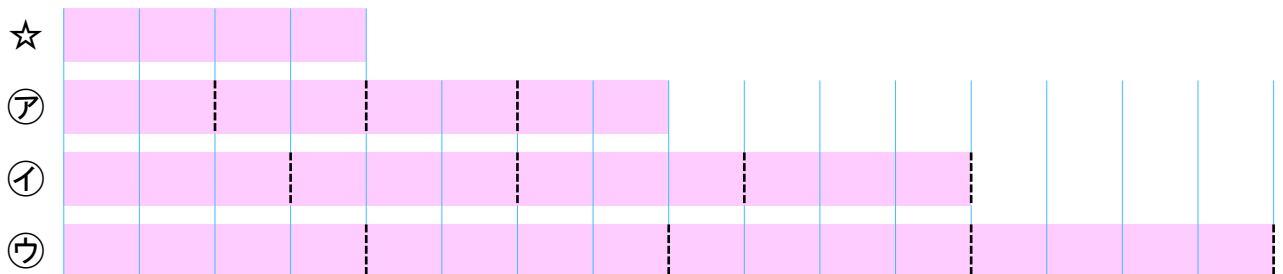
1 同じ大きさに 分けると 何分の一に なるでしょう。



2 色のついている 大きさは、もとの大きさの 何分の一でしょう。



3 ☆は、テープを 4つに分けた 1つ分で、もとの長さの  $\frac{1}{4}$  です。  
もとの長さを ㉑~㉗ の 中から えらびましょう。



もとの長さ (      )