



月 日

名前 _____

1

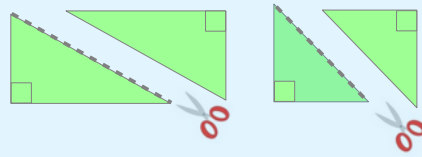
ちよっかくさんかくけい
直角三角形を しらべてみましょう。

直角の かどがある 三角形を

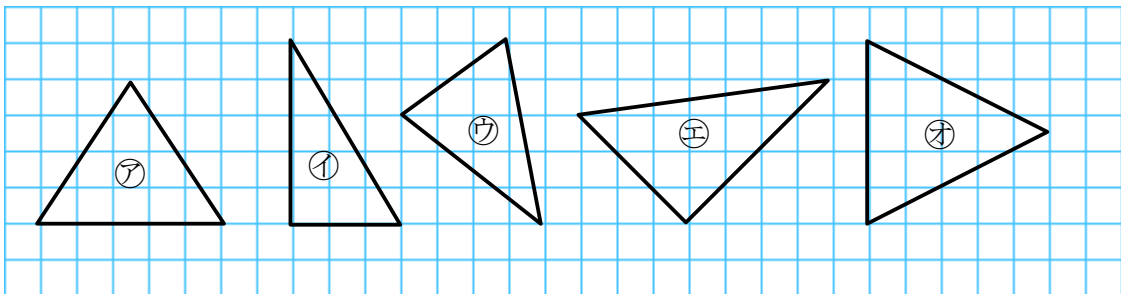


と います。

長方形、正方形の 紙を切ると
直角三角形ができます。



㊶～㊸の中から 直角三角形を すべてえらびましょう。

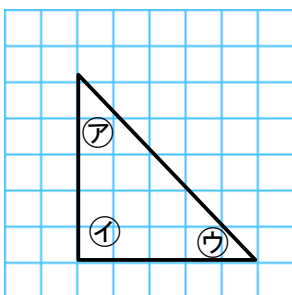


直角三角形 ()

2

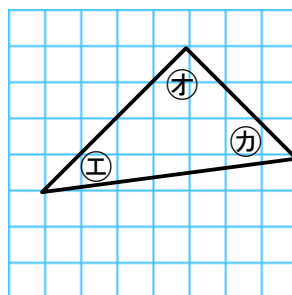
直角の かどは どれですか ㊶～㊺から えらびましょう。

(1)



()

(2)



()