


1

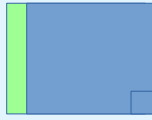
ちょうほうけい  
長方形を しらべてみましょう。

4つの かどが、みんな <sup>ちよっかく</sup> 直角  
になっている 四角形を  
**長方形** と いいます。  
また、むかいあっている  
へんの長さは、おなじです。

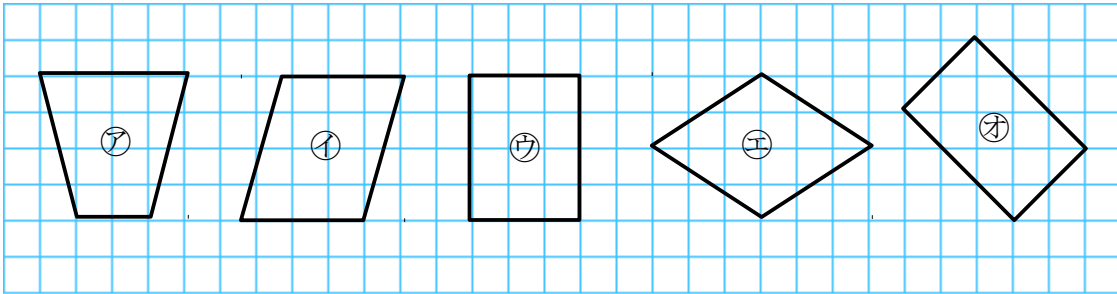
上下 あわせて おる。



できた かどの形を  
直角と いいます。

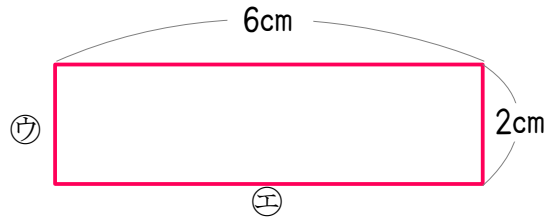
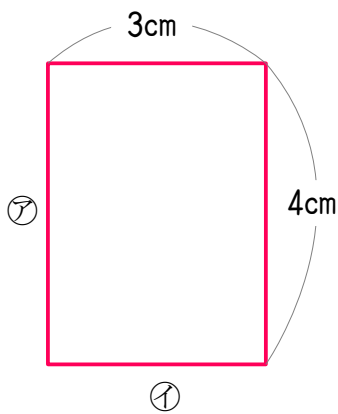


(1) ㉗～㉝の中から、長方形を すべてえらびましょう。



長方形 ( ㉙, ㉛ )

(2) 下の図は 長方形です。㉗～㉝の へんの長さは、何<sup>なん</sup>cmでしょう。



- |   |      |   |      |
|---|------|---|------|
| ㉗ | 4 cm | ㉙ | 2 cm |
| ㉘ | 3 cm | ㉚ | 6 cm |