




月 日

名前 _____


1

ちょうほうけい
長方形を しらべてみましょう。


4つの かどが、みんな ^{ちよっかく} 直角 になっている 四角形を  と いいます。

また、むかいあっている へんの長さは、おなじです。

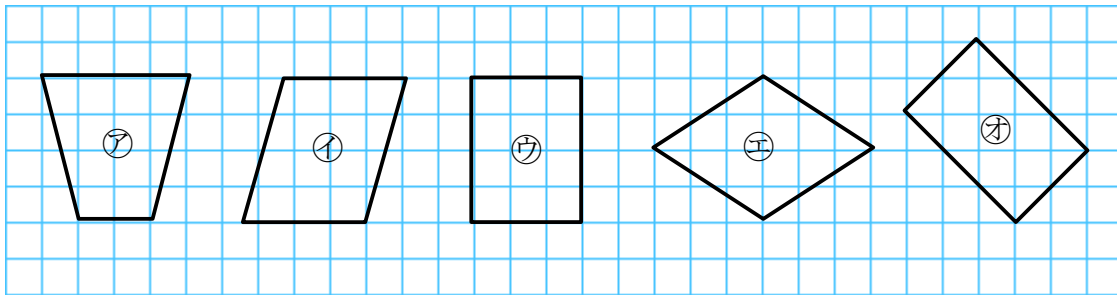
上下 あわせて おる。



できた かどの形を 直角と いいます。

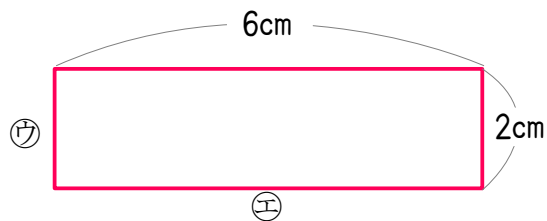
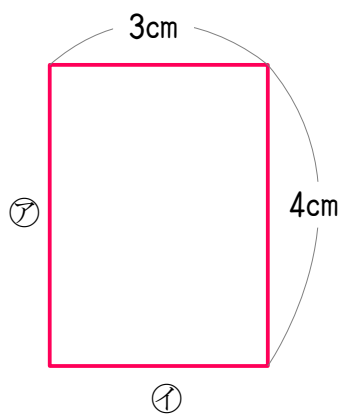


(1) ㉗~㉛の中から、長方形を すべてえらびましょう。



長方形 ()

(2) 下の図は 長方形です。㉗~㉛の へんの長さは、何^{なん}cmでしょう。



㉗	<input type="text"/> cm	㉙	<input type="text"/> cm
㉘	<input type="text"/> cm	㉚	<input type="text"/> cm