

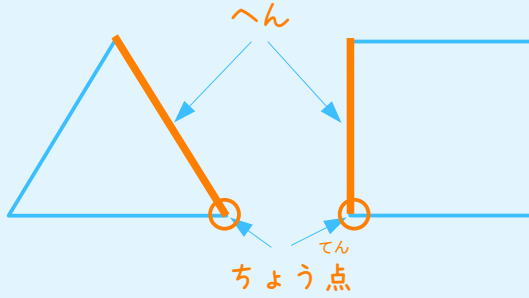


名前 _____

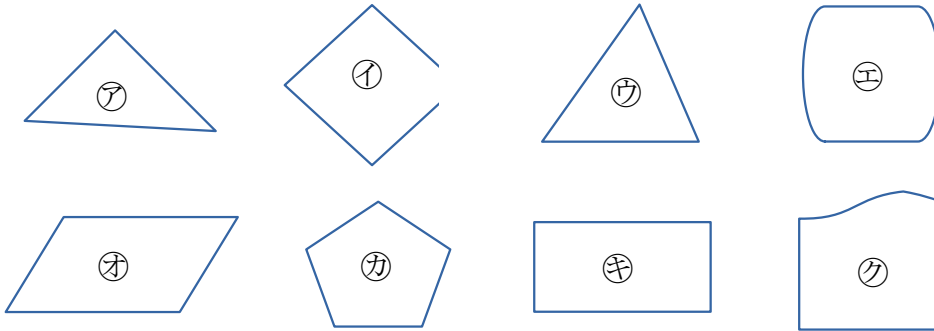
1

直線の数と、かどの数を しらべてみましょう。

三角形や四角形で 直線の
 ところを とい
 かどの 点を
 といいます。



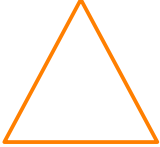
㊶～㊷の中から、三角形と四角形を えらびましょう。




三角形 () 四角形 ()

2

へんと、ちょう点は、それぞれ いくつあるでしょう。

(1)  形
 へん 本 ちょう点 こ

(2)  形
 へん 本 ちょう点 こ