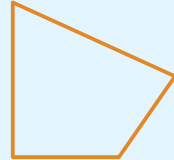


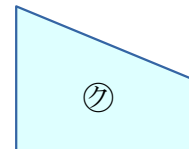
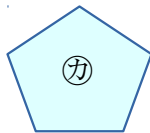
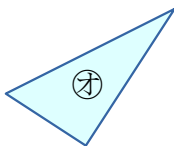
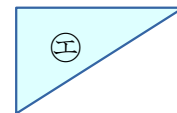
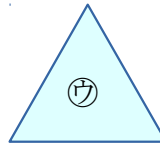
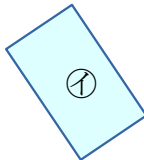
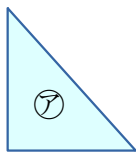
1

いろいろな 形を しらべてみましょう。

4本の^{ちよくせん}直線で かこまれた
かたち
形を **四角形**
と います。



㊶～㊷の中から、四角形を すべてえらびましょう。




四角形

(**イ, キ, ク**)


2

四角形を 2つ かいてみましょう。

れい



例



例

