




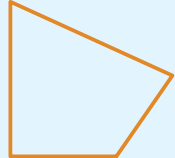


月 日

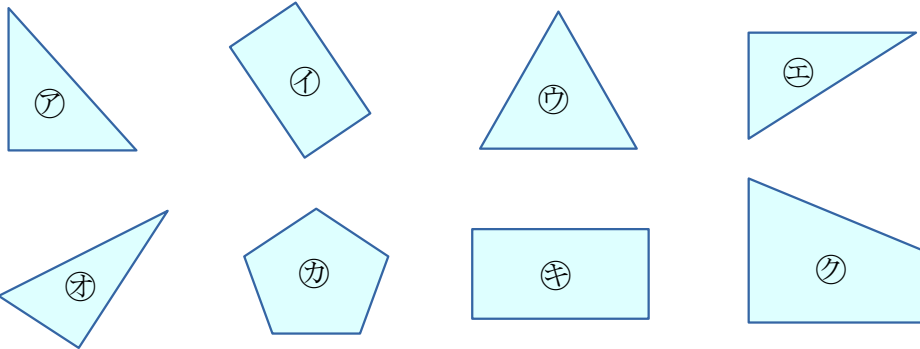
名前 _____

1

いろいろな 形を しらべてみましょう。

4本の^{ちよくせん}直線で かこまれた
かたち 形を    
と います。

㊦～㊧の中から、四角形を すべてえらびましょう。



四角形 ()

2

四角形を 2つ かいてみましょう。

