


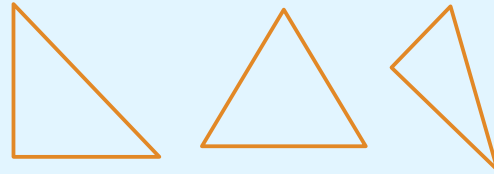


名前 _____

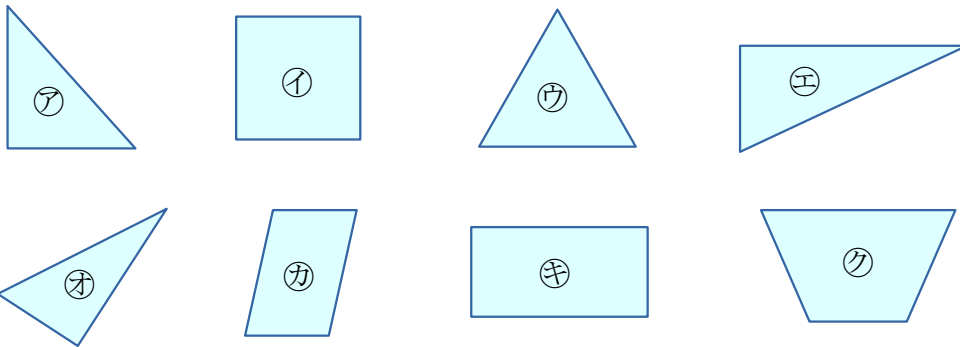
1

いろいろな 形を しらべてみましょう。

3本の^{ちよくせん}直線で かこまれた
かたち
形を 
と います。



㊶～㊷の中から、三角形を すべてえらびましょう。



三角形

()

2

三角形を 2つ かいてみましょう。

