



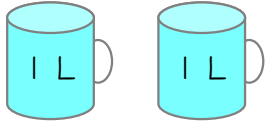
月 日

名前 _____

1

水のかさは ^{リットル} 何 L あるでしょう。

(1)

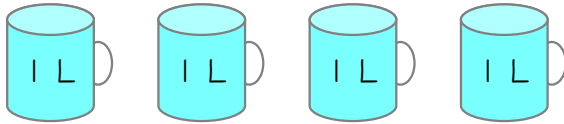


リットル



なぞってみよう

(2)



リットル



(3)



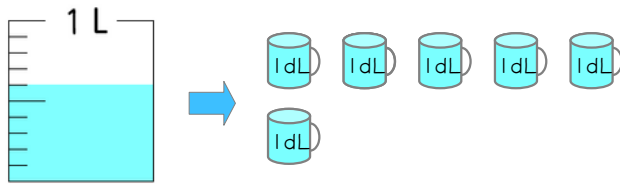
リットル



2

水のかさは ^{デシリットル} 何 dL あるでしょう。

(1)

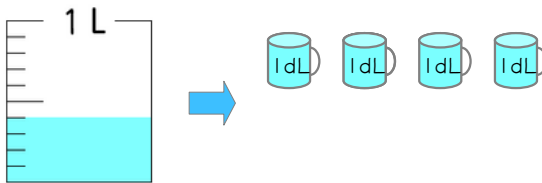


デシリットル



なぞってみよう

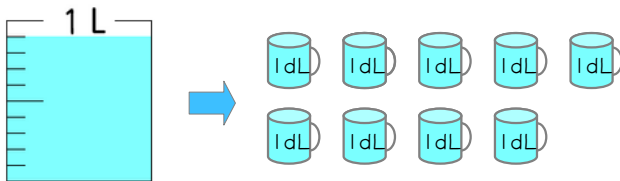
(2)



デシリットル



(3)



デシリットル

