

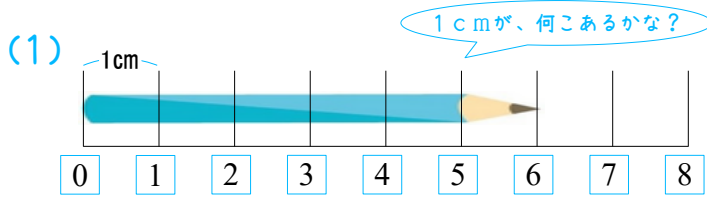


月 日

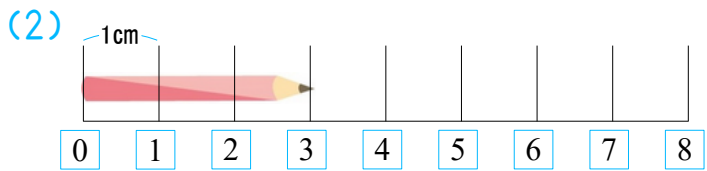
名前 _____

1

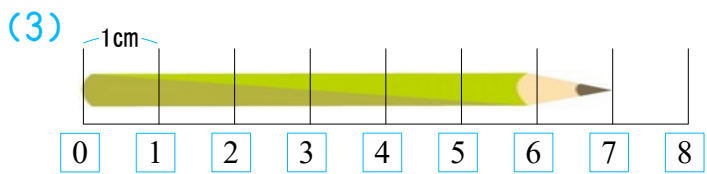
えんぴつの ^{なが}長さは ^{センチメートル}なん cm あるでしょう。



センチメートル
cm
なぞってみよう



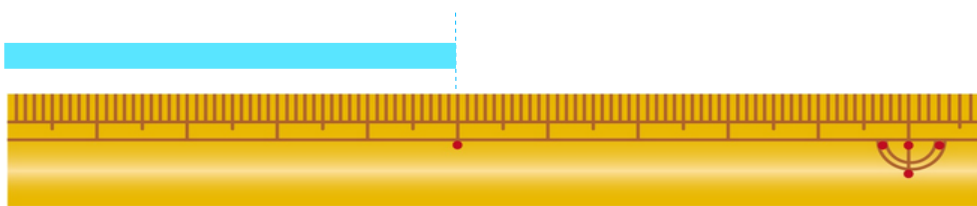
センチメートル
cm



センチメートル
cm

2

^{テープ}の長さをこたえましょう。



(1) このテープの長さは、1 cm 分です。

(2) このテープの長さは cm です。