

1 今の時こくは、2時20分です。つぎの時こくをいみましょう。

(1) 1時間前 (1時20分) (2) 2時間後 (4時20分)



(3) 30分前 (1時50分) (3) 40分後 (3時)



2 つぎの時間は、何分ですか。 □ にあう 数を書きましょう。



(1) 1時間50分 = 110 分 (2) 2時間30分 = 150 分

(3) 100分 = 1 時間 40 分

3 つぎの時こくを答えましょう

(1)  →  午前11時 → 午後1時
2 時間後

(2)  →  午前10時30分 → 午後12時30分
2 時間後

(3)  →  午後3時10分 → 午後4時10分
1 時間後