



月 日

名前 _____

1

今の時こくは、2時20分です。つぎの時こくをいみましょう。

(1) 1時間前 () (2) 2時間後 ()

(3) 30分前 () (3) 40分後 ()

2

つぎの時間は、何分ですか。 □ にあう 数を書きましょう。

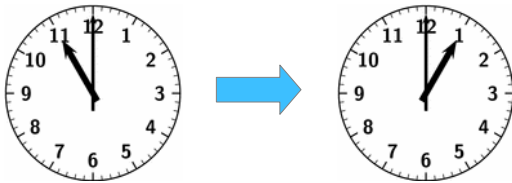
(1) 1時間50分 = □ 分 (2) 2時間30分 = □ 分

(3) 100分 = □ 時間 □ 分

3

つぎの時こくを答えましょう

(1)

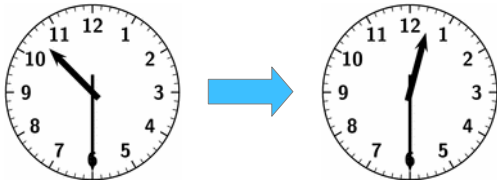


午前11時



_____ 時間後

(2)

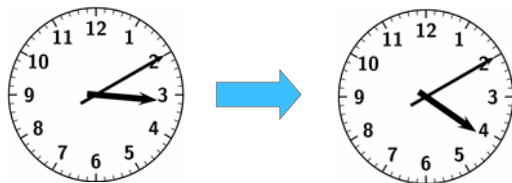


午前10時30分



_____ 時間後

(3)



午後3時10分



_____ 時間後