


名前 \_\_\_\_\_

1  にあう数を書きましょう。

なが



長いはりがひと回りする時間は、  時間です。



||

時間は、  60 分です。

2 みじかいはりがひと回りする時間は、  12 時間です。



1日は、午前と午後で、あわせて

24 時間です。

午前

午後

今の時こくは、8時40分です。つぎの時こくをいみましょう。

(1) 1時間前 ( 7時40分 ) (2) 1時間後 ( 9時40分 )

(3) 30分前 ( 8時10分 ) (3) 40分後 ( 9時20分 )

3 つぎの時間は、何分ですか。  にあう数を書きましょう。

(1) 1時間30分 =  90 分 (2) 2時間10分 =  130 分

(3) 80分 =  1 時間  20 分