

1

□ の 時こくや ^{じかん}時間を 答えましょう。



家に帰る


5時



ごはんを食べる

7時半

(7時30分)



ねる


9時

- (1) 家に帰ってから、ごはんを食べるまでは、 時間と 分です。
- (2) ごはんを食べてから、ねるまでは、 時間と 分です。
- (3) 家に帰ってから、ねるまでは、 時間です。

2


左の時こくから、右の時こくまで 何時間か 答えましょう。

(1)



(1時間)

(2)



(3時間)

(3)



(1時間)