


1

_____ の 時こくや ^{じかん} 時間を 答えましょう。




学校に行く

8 時



学校につく

8 時 15 分



べんきょうをする


9 時

- (1) 学校に行ってから、つくまでの時間は 分間です。
- (2) ついてから、べんきょうするまでの時間は 分間です。
- (3) 学校に行ってから、べんきょうするまでの時間は 時間です。

2


左の時こくから、右の時こくまでの時間を 答えましょう。

(1)




(20分)

(2)



(45分)

(3)



(1時間)