

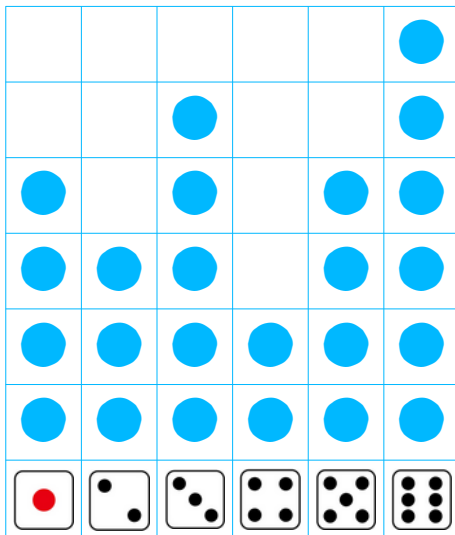


月 日


名前 \_\_\_\_\_

1

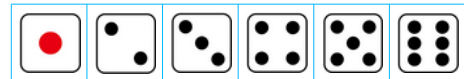
サイコロで 出た目のかすを グラフに しました。



(1) でた目が いちばん おおい  
目に ○をつけましょう。



(2) でた目が いちばん すくない  
目に ○をつけましょう。



(3) は より 何回おおいでしょう。 ( )

(4) は より 何回すくないでしょう。 ( )

2

サイコロで 出た目のかすを ひょう にしました。

4	8	1	5	9	3

(1) の 出たかすは あわせて何回でしょう。 ( )

(2) と の 出たかすをあわせたかすと おなじかすの  
出た目に○をつけましょう。

