





がつ 日にち


なまえ

1

^{まる}  くと ^{はな}  ちゃんは ^{さいころ} サイコロで あそびました。
ふたりの でためのかずを あわせて こたえましょう。



(1)



しき

$$(4 + 2 = 6)$$

こたえ

$$(6)$$

(2)



しき

$$(6 + 3 = 9)$$

こたえ

$$(9)$$

(3)



しき

$$(1 + 6 = 7)$$

こたえ

$$(7)$$

(4)



しき

$$(5 + 5 = 10)$$

こたえ

$$(10)$$

(5)



しき

$$(4 + 6 = 10)$$

こたえ

$$(10)$$