





がつ 日にち

なまえ

1

^{まる}  くと ^{はな}  ちゃんは ^{さいころ} サイコロで あそびました。
ふたりの でためのかずを あわせて こたえましょう。



(1)




しき

$$(1 + 4 = 5)$$

こたえ

$$(5)$$

(2)



しき

$$(5 + 3 = 8)$$

こたえ

$$(8)$$

(3)




しき

$$(3 + 6 = 9)$$

こたえ

$$(9)$$

(4)




しき

$$(2 + 1 = 3)$$

こたえ

$$(3)$$

(5)



しき

$$(6 + 2 = 8)$$

こたえ

$$(8)$$