

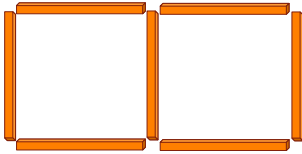
がつ にち

なまえ

1

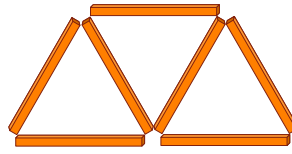
ぼうをつかって かたちを つくりました。  
 つかった — の かずは なん本でしょう。  
 また □ と △ は それぞれ なんこ ありますか。

(1)



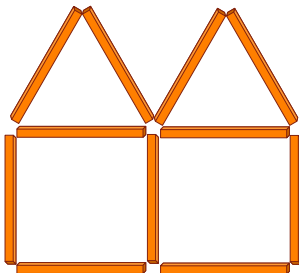
— は  本  
 □ は  こ

(2)



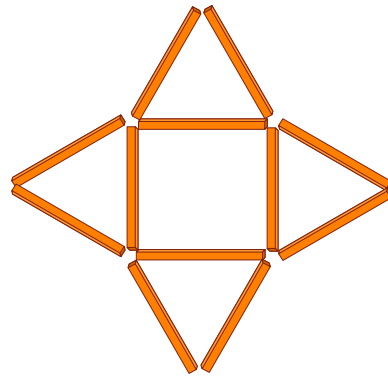
— は  本  
 △ は  こ

(3)



— は  本  
 △ は  こ  
 □ は  こ

(4)



— は  本  
 △ は  こ  
 □ は  こ