


がつ 日にち


いくつあるかな ⑦

なまえ



1

つぎの もんだいをよんで こたえましょう。




(1)  が はいっている  は  
なんこ あるでしょう。



こ

(2)  と  が 2つともはいっている  
 は なんこ あるでしょう。

こ

(3)  が はいっていない  は  
なんこ あるでしょう。

こ

(4)  と  が 2つともはいっていない  
 は なんこ あるでしょう。

こ